

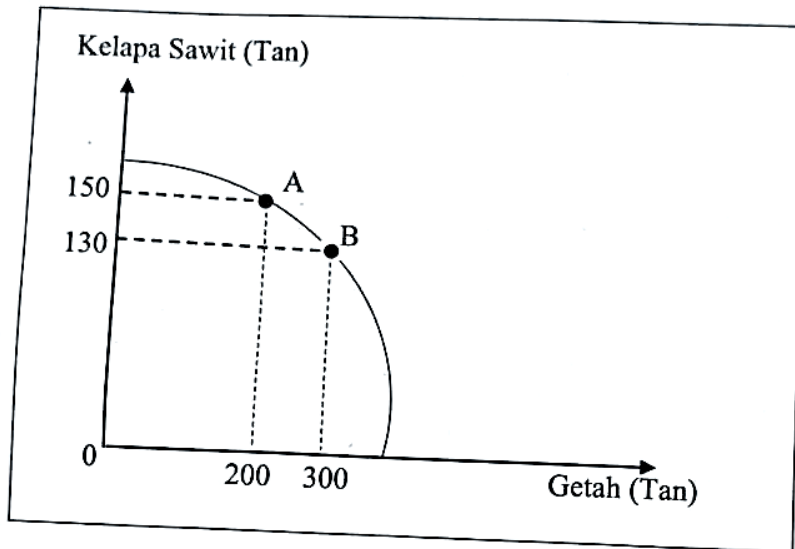
1 Maklumat berikut berkaitan dengan faktor pengeluaran P dan Q.

P	Q
Penggunaannya boleh dipelbagaikan bagi meningkatkan produktiviti.	Penggunaannya dapat melicinkan proses pengeluaran.

Apakah P dan Q?

	P	Q
A	Tanah	Buruh
B	Tanah	Modal
C	Modal	Tanah
D	Modal	Buruh

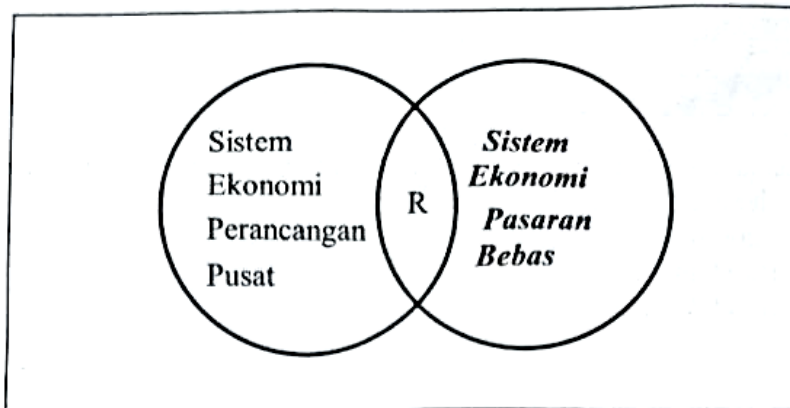
2 Rajah di bawah berkaitan dengan keluk kemungkinan pengeluaran (KKP) bagi dua jenis barang dalam ekonomi.



Pernyataan yang manakah benar apabila kombinasi pengeluaran A bergerak ke B?

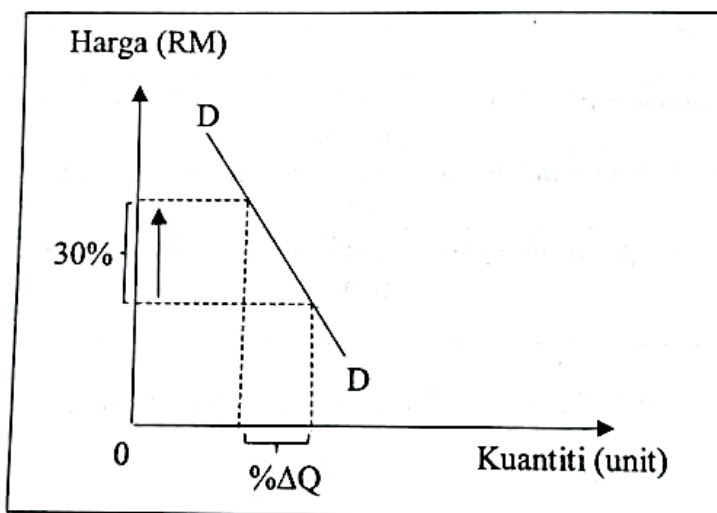
- I Ekonomi masih berada pada tahap guna tenaga penuh
  - II Penambahan 100 tan getah akan melepaskan 20 tan kelapa sawit
  - III Faktor pengeluaran digunakan sepenuhnya untuk menambah 100 tan getah
  - IV Penggunaan sumber tidak cekap mengakibatkan pengurangan 20 tan kelapa sawit
- A I dan II  
 B I dan III  
 C II dan IV  
 D III dan IV

- 3 Rajah di bawah menunjukkan Negara R yang memiliki persamaan ciri antara dua sistem ekonomi.



Pernyataan yang manakah benar tentang negara tersebut?

- A Barangan diagihkan secara sama rata kepada rakyat
  - B Harga barangan ditentukan melalui mekanisma pasaran
  - C Kebebasan penuh kepada firma untuk memiliki sumber
  - D Mengawal selia pengeluar melalui penguatkuasaan undang-undang
- 4 Pernyataan yang manakah benar tentang penguncupan penawaran?
- A Harga barang tersebut menurun
  - B Penghapusan subsidi pengeluaran
  - C Peningkatan dalam kos bahan mentah
  - D Harga dijangka menurun pada masa hadapan
- 5 Rajah di bawah menunjukkan keluk permintaan tidak anjal bagi suatu barang.



Apakah kesan ke atas kuantiti diminta apabila berlaku perubahan harga?

- A Pengurangan kuantiti sebanyak 30%
- B Peningkatan kuantiti sebanyak 20%
- C Peningkatan kuantiti sebanyak 30%
- D Pengurangan kuantiti sebanyak 20%

6 Jadual di bawah menunjukkan harga dan kuantiti diminta Barang W.

Harga (RM)	Kuantiti diminta (unit)
5	10
4	20

Pernyataan yang manakah benar apabila berlaku penurunan harga barang tersebut?

- I Barang W adalah anjal
- II Jumlah hasil berkurang
- III Jumlah hasil bertambah
- IV Barang W adalah tidak anjal

- A I dan II
- B I dan III
- C II dan IV
- D III dan IV

7 Maklumat di bawah menunjukkan nilai keanjalan harga penawaran untuk dua jenis barang.

- |  |
|--|
| <ul style="list-style-type: none"> <li>• Barang R : <math>E_s &gt; 1</math></li> <li>• Barang S : <math>E_s &lt; 1</math></li> </ul> |
|--|

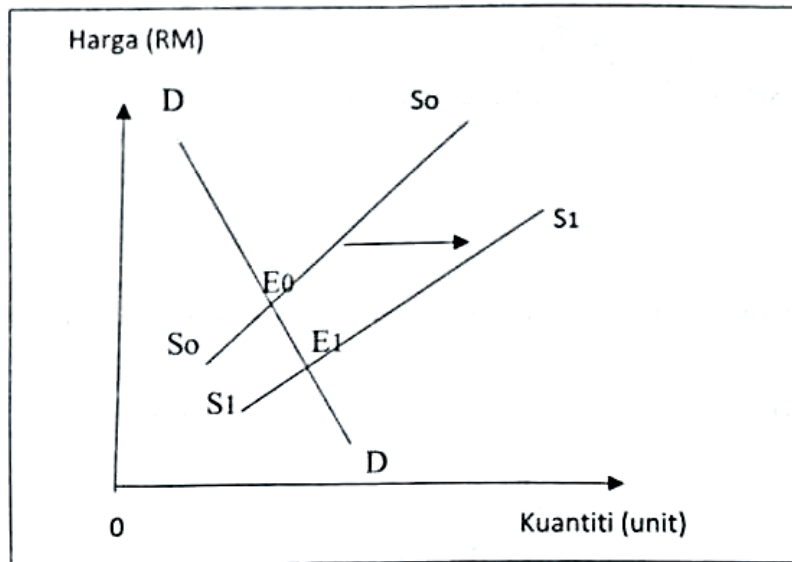
Pernyataan yang manakah menerangkan penentu keanjalan harga penawaran barang tersebut?

	R	S
A	Bilangan firma yang banyak dalam pasaran	Stok bahan mentah yang terhad
B	Melibatkan tambahan kos pengeluaran yang besar	Sukar untuk memperoleh faktor pengeluaran
C	Faktor pengeluaran boleh dipindahkan dengan mudah	Bilangan barang pengganti yang sedikit
D	Stok barang siap dan separuh siap yang banyak	Mudah ditambah dalam jangka masa pendek

8 Urusniaga kredit tidak dapat berkembang jika wang gagal memainkan peranan sebagai alat

- A pengukur nilai
- B penyimpan nilai
- C bayaran tertunda
- D perantaraan pertukaran

- 9 Antara berikut, yang manakah benar tentang matlamat firma?
- A Meluaskan pasaran barang
  - B Meningkatkan produktiviti
  - C Mencapai keuntungan maksimum
  - D Mengurangkan pembaziran sumber ekonomi
- 10 Rajah di bawah menunjukkan perubahan keseimbangan pasaran suatu barang.



- Pernyataan yang manakah benar apabila berlaku peralihan keluk tersebut?
- I Wujud lebih permintaan dalam pasaran
  - II Jangkaan harga menurun pada masa hadapan
  - III Harga dan kuantiti keseimbangan baharu meningkat
  - IV Keseimbangan baharu tercapai pada harga yang lebih rendah
- A I dan II
  - B II dan IV
  - C I dan III
  - D III dan IV
- 11 Maklumat di bawah berkaitan dengan perkhidmatan Skim Perbankan Islam.

Encik Malik dan keluarga menunaikan umrah melalui pembiayaan bank.

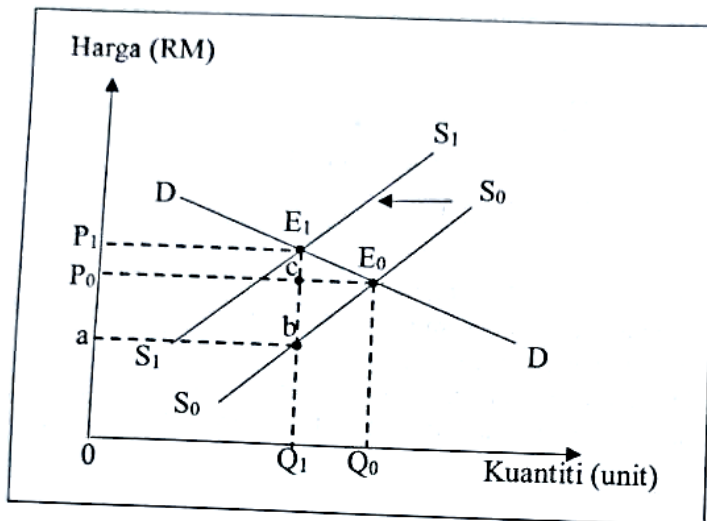
- Prinsip yang digunakan ialah
- A Takjiri
  - B Wadiah
  - C Mudharabah
  - D Bai Bithaman Ajil

12 Gambar di bawah merupakan logo sebuah institusi kewangan.



- I Menjaga rizab berkanun
- II Mengurus pertukaran asing
- III Memberi perlindungan PIDM
- IV Menawarkan perkhidmatan pelaburan emas
- A I dan II
- B I dan III
- C II dan III
- D III dan IV

13 Rajah di bawah menunjukkan kesan pengenaan cukai terhadap pasaran suatu barang.



Pernyataan yang manakah benar menerangkan kesan tersebut?

- A Pengeluar memperoleh hasil sebanyak  $P_1abE_1$
- B Beban cukai ditanggung pengguna lebih besar
- C Pengeluar menanggung beban cukai lebih besar
- D Kerajaan memperoleh hasil cukai sebanyak  $0P_0E_0Q_0$

14 Pasangan yang manakah betul menerangkan perubahan permintaan Barang Q?

	Penentu Permintaan	Peralihan Keluk Permintaan
A	Harga barang itu telah menurun	Ke kanan
B	Harga pengganti Barang Q telah naik	Ke kiri
C	Jangkaan harga akan naik pada bulan hadapan	Ke kiri
D	Kerajaan menurunkan kadar cukai atas barang	Ke kanan

- 15 Jadual di bawah menunjukkan pendapatan dan perbelanjaan Syafiq pada suatu bulan.

Butiran	RM
Gaji	6 000
Caruman KWSP	660
Potongan cukai pendapatan	140
Caruman PERKESO	30
Insurans nyawa	400
Dividen ASB	300
Potongan Tabung Haji	500

Berapakah pendapatan boleh guna Syafiq pada bulan tersebut?

- A RM4 570
  - B RM5 170
  - C RM5 470
  - D RM5 500
- 16 Maklumat di bawah berkaitan dengan suatu kaedah pembayaran.

Encik Hasif membeli satu set alat senaman dari GoShop secara bayaran ansuran.

Mengapakah kaedah tersebut dipilih?

- I Harga lebih murah
  - II Menikmati diskaun harga
  - III Meringankan beban kewangan
  - IV Perkhidmatan selepas jualan disediakan
- A I dan II
  - B I dan IV
  - C II dan III
  - D III dan IV
- 17 Antara berikut, yang manakah benar tentang penggunaan input dalam pengeluaran roti?
- I Kilang roti baharu boleh ditambah dalam jangka masa panjang
  - II Apabila pengeluaran roti sifar, stok bahan mentah dikurangkan
  - III Bilangan mesin pengadun boleh dikurangkan apabila jumlah roti berkurangan
  - IV Tambahan pengeluaran roti dalam jangka pendek memerlukan tambahan buruh
- A I dan II
  - B I dan IV
  - C II dan III
  - D III dan IV

- 18 Jadual di bawah menunjukkan kos purata bagi suatu barang permainan kanak-kanak.


Jumlah Output (Unit)	Kos Purata (RM)
40	15
60	13
80	12
100	10

- Antara berikut, pernyataan manakah yang benar jika harga jualan ialah RM60 seunit?
- A Keuntungan maksima dicapai pada tingkat output 100
  - B Jumlah kos paling rendah dicatat pada tingkat output 60
  - C Keuntungan paling rendah direkod pada tingkat output 80
  - D Jumlah hasil paling tinggi diperolehi pada tingkat output 40
- 19 Antara berikut, yang manakah kos implisit sebuah kedai runcit?
- I Upah pekerja
  - II Sewa bangunan pemilik
  - III Kos pengangkutan barang
  - IV Faedah atas modal milikan sendiri
- A I dan II
  - B I dan III
  - C II dan IV
  - D III dan IV
- 20 Pernyataan yang manakah benar tentang peranan kerajaan dalam mengawal selia eksternaliti negatif?
- A Menghapuskan cukai karbon ke atas kilang
  - B Memudahkan pemberian lesen untuk pembalakan
  - C Mengurangkan subsidi untuk penggunaan teknologi hijau
  - D Mengenakan cukai ke atas barang yang mencemarkan udara
- 21 Gambar di bawah berkaitan dengan syarikat monopoli semulajadi.



- Pernyataan yang manakah benar?
- A Dimiliki oleh sektor swasta
  - B Terdapat pengganti hampir
  - C Mengenakan harga yang tinggi
  - D Undang-undang menghalang kemasukan firma lain

22. Apakah faktor yang menyebabkan berlakunya inflasi tarikan permintaan?
- I Peningkatan kos pengeluaran
  - II Bekalan wang dalam pasaran bertambah
  - III Kerajaan menjual surat jaminan kerajaan
  - IV Bank perdagangan melonggarkan syarat pinjaman
- A I dan II
  - B I dan III
  - C II dan IV
  - D III dan IV
23. Antara berikut yang manakah kesan pengangguran dari aspek sosial?
- A Hasil kerajaan berkurang
  - B Kadar kemiskinan meningkat
  - C Pertumbuhan ekonomi perlahan
  - D Taraf hidup masyarakat menurun
24. Apakah puncanya berlaku inflasi tolakan kos?
- I Pengecualian cukai jualan
  - II Kenaikan harga bahan mentah
  - III Subsidi petroleum ditingkatkan
  - IV Menaikkan kadar upah minimum
- A I dan II
  - B I dan III
  - C II dan IV
  - D III dan IV
25. Rajah di bawah menunjukkan dua dasar ekonomi kerajaan bagi mengawal ketidakstabilan ekonomi.



Bagaimanakah X membantu mencapai kestabilan ekonomi?

- A Menaikkan kadar cukai
- B Mengetatkan syarat sewa beli
- C Menurunkan nisbah rizab tunai
- D Menambah perbelanjaan pembangunan



26 Maklumat di bawah berkaitan kadar pengangguran di Malaysia.

Kadar pengangguran di Malaysia telah meningkat dari 3.2% pada tahun 2019 kepada 4.5% pada tahun 2020 kesan daripada pandemik Covid-19.

Apakah jenis pengangguran tersebut?

- A Kitaran
- B Geseran
- C Bermusim
- D Berstruktur

27 Maklumat berikut berkaitan dengan tindakan kerajaan bersesuaian dengan keadaan ekonomi semasa.

Kerajaan telah menurunkan kadar cukai pendapatan sebanyak satu peratus bagi mereka yang berpendapatan RM50,001 hingga RM70,000 dan caruman KWSP dikurangkan daripada 11 peratus kepada sembilan (9) peratus.  
[https://www.sinarharian.com.my/article/11 Jun 2021](https://www.sinarharian.com.my/article/11-Jun-2021)

Apakah kesan tindakan tersebut terhadap ekonomi?

- I Hasil cukai kerajaan meningkat
  - II Tabungan jangka panjang menurun
  - III Perbelanjaan penggunaan meningkat
  - IV Sumber pinjaman kepada kerajaan bertambah
- A I dan II
  - B I dan IV
  - C II dan III
  - D III dan IV

28 Pasangan manakah yang benar?

	Perbelanjaan Mengurus	Perbelanjaan Pembangunan
A	Sumbangan untuk menyelenggara jalan raya setiap negeri	Penyediaan prasarana dan kemudahan awam
B	Penambahbaikan kepada kualiti infrastuktur ICT	Penyelenggaraan dan pembaikan harta kerajaan
C	Menjelaskan bayaran hutang dalam dan luar negara	Pemberian bantuan kewangan kepada murid dan pelajar universiti
D	Penyediaan kuarters untuk anggota polis dalam sektor sosial	Menguruskan pembangunan sumber manusia

- 29 Kepentingan perdagangan antarabangsa yang manakah menyebabkan Malaysia mengimport arang batu dari Australia?
- A Menambah peluang pekerjaan
  - B Meningkatkan kecekapan pengeluaran
  - C Menggalakkan penggunaan teknologi moden
  - D Memperoleh barang yang tidak dikeluarkan dalam negara

- 30 Pernyataan di bawah berkaitan dengan suatu bentuk sekatan perdagangan antarabangsa.

Kerajaan menetapkan untuk menurunkan kuota import daging lembu dari Australia sebanyak 10 % pada tahun ini.

Apakah kesan perubahan kuota tersebut terhadap pasaran daging?

- A Harga daging import akan turun
  - B Penawaran daging import bertambah
  - C Permintaan daging tempatan bertambah
  - D Berlaku lebihan penawaran daging di pasaran
- 31 Pernyataan yang manakah dapat mengatasi defisit akaun semasa?
- I Meningkatkan kualiti sumber manusia
  - II Memberi subsidi untuk barang eksport
  - III Mengurangkan sekatan ke atas barang import
  - IV Mengetatkan pemberian visa untuk pelancong
- A I dan II
  - B I dan IV
  - C II dan III
  - D III dan IV
- 32 Antara berikut, yang manakah komposisi import tak nampak Malaysia?
- A Penggunaan, perantaraan dan pelaburan
  - B Perkilangan, pertanian dan perlombongan
  - C Pengangkutan, perjalanan dan insurans
  - D Pendapatan primer dan pendapatan sekunder
- 33 Pernyataan yang manakah benar tentang penurunan nilai Ringgit Malaysia (RM) berbanding Amerika Dolar (USD)?
- I Penawaran Ringgit Malaysia bertambah
  - II Nilai barang import dari Amerika meningkat
  - III Imbangan dagangan Malaysia cenderung lebihan
  - IV Permintaan barang eksport dari Malaysia bertambah
- A I dan II
  - B I dan IV
  - C II dan III
  - D III dan IV

- 34 Situasi manakah yang dapat memperbaiki imbalan pembayaran Malaysia?  
 A Penurunan dalam jumlah import negara  
 B Peningkatan dalam pelancongan domestik  
 C Bantuan kepada mangsa gempa bumi di Indonesia  
 D Kiriman wang oleh pekerja asing di Malaysia meningkat
- 35 Maklumat di bawah berkaitan dengan kadar pertukaran asing antara Ringgit Malaysia (RM) dengan Pound Sterling (£).

Mata Wang Asing (unit)	Harga Belian (RM)	Harga Jualan (RM)
1£	RM5.25	RM5.40

Berapakah nilai £50 dalam Ringgit Malaysia?

- A RM262.50  
 B RM270.00  
 C RM397.50  
 D RM532.50

Soalan 36 hingga 40 berdasarkan pilihan jawapan dalam jadual di bawah.

Pilihan	Pernyataan I	Pernyataan II
A	Betul	Salah
B	Salah	Betul
C	Betul	Betul
D	Salah	Salah

- 36 I Lebih penawaran berlaku apabila tingkat harga berada di bawah harga keseimbangan.  
 II Peningkatan cukai pendapatan individu menyebabkan harga dan kuantiti keseimbangan baharu meningkat.
- 37 I Draf bank memudahkan pembelian terbitan saham baharu.  
 II Penggunaan draf bank semakin berkurang dengan kemajuan teknologi digital.
- 38 I Indeks Harga Pengguna (IHP) diukur dengan membandingkan harga purata tahun semasa dengan tahun dasar.  
 II Penurunan Indeks Harga Pengguna akan menyebabkan peningkatan dalam taraf hidup pengguna.
- 39 I Rizab berkanun ialah alat dasar kewangan untuk mengawal penawaran wang.  
 II Kadar rizab berkanun akan dinaikkan semasa dasar kewangan mengembang.
- 40 I Nilai mata wang sesebuah negara ditentukan oleh permintaan dan penawaran dalam pasaran pertukaran asing.  
 II Penurunan nilai Ringgit Malaysia berlaku apabila permintaan Ringgit Malaysia melebihi penawaran Ringgit Malaysia.

*Soalan tamat*